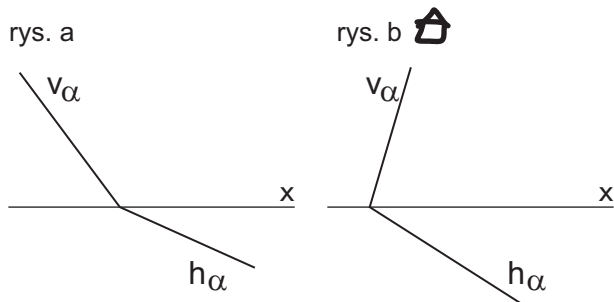
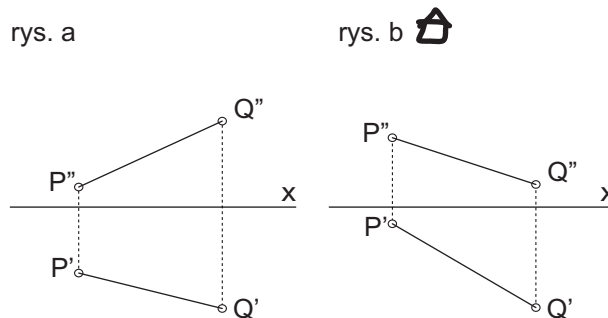


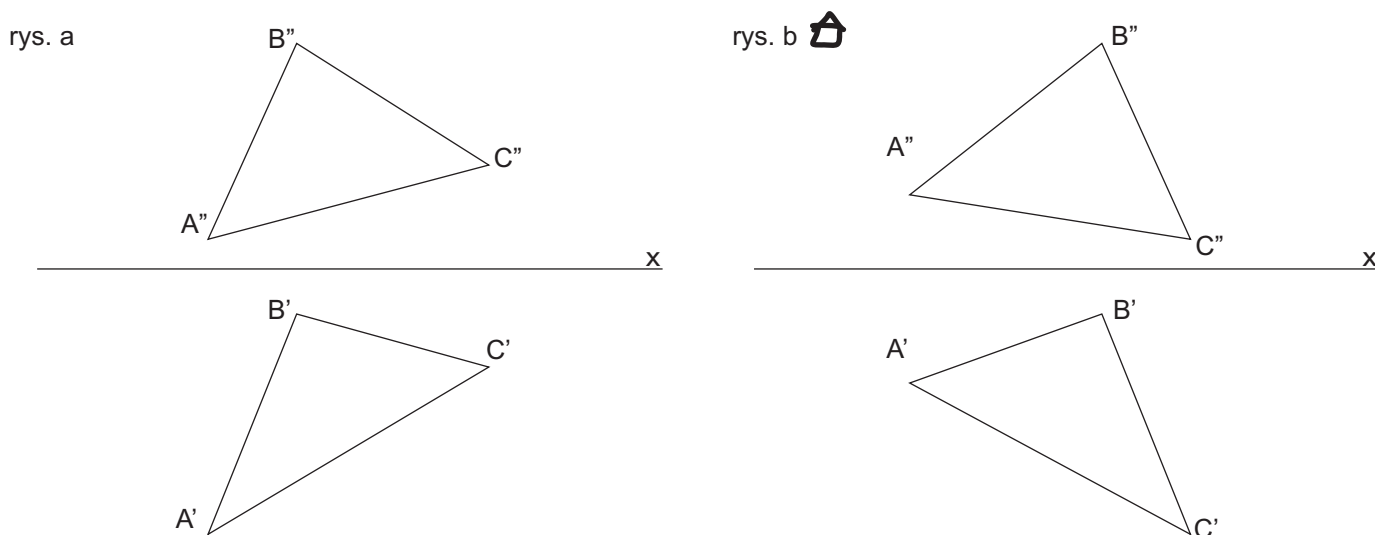
Zad.1.
Wyznacz prawdziwą wielkość kąta jaki tworzy płaszczyzna α z rzutnią 1) poziomą π_1 , 2) pionową π_2 .



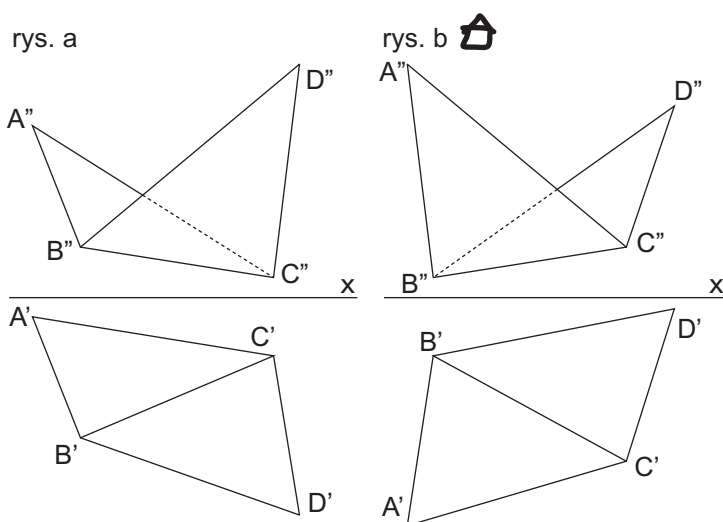
Zad.2.
Wyznacz prawdziwą wielkość odcinka $|PQ|$ metodą transformacji.



Zad.3.
Wyznacz prawdziwą wielkość trójkąta ABC metodą transformacji.



Zad.4.
Wyznacz prawdziwą wielkość kąta zawartego pomiędzy płaszczyznami trójkątów ABC i CBD.



Zad.5.
Wyznacz prawdziwą wielkość kąta zawartego między trójkątem ABC i odcinkiem $|PQ|$.

