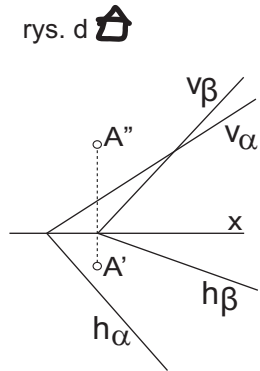
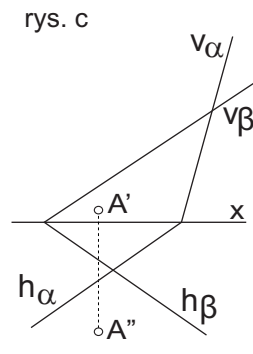
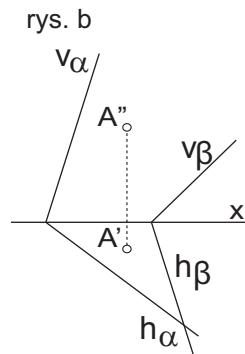
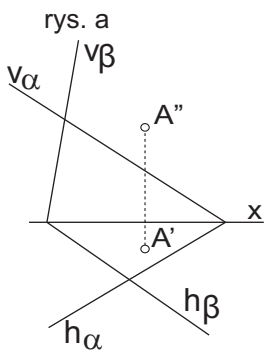


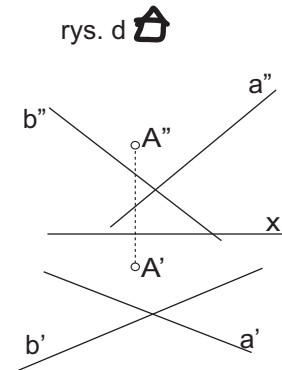
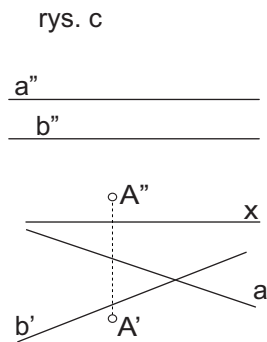
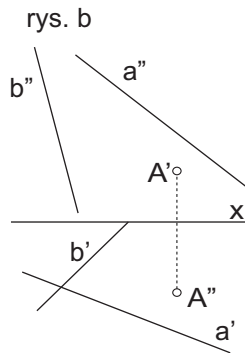
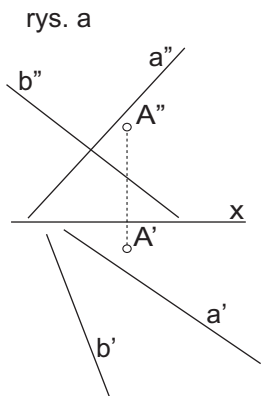
Zad.1.

Przez punkt A poprowadź prostą l, równoległą do obu zadanych płaszczyzn α i β .



Zad.2.

Przez punkt A poprowadź prostą l, prostopadłą do obu zadanych prostych a i b.



Zad.3.

Przez punkt A poprowadź płaszczyznę α , równoległą do obu zadanych prostych a i b. Rozwiązanie przedstaw śladem.

