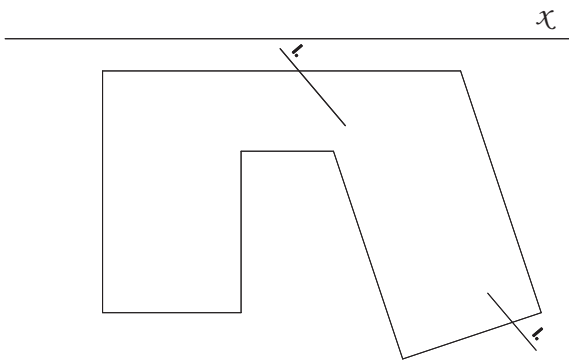


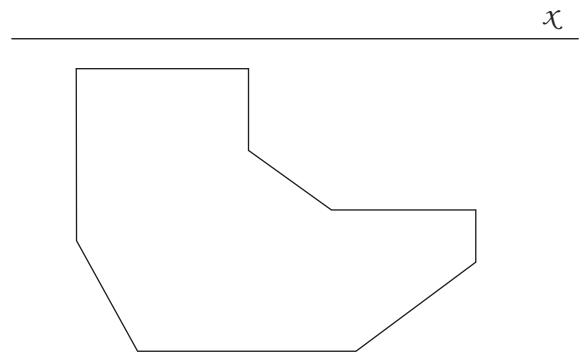
Zad.1.

Rozwiąż dach nad budynkiem o zadanym obrysie w obu rzutach. Nachylenie połaci dachowych  $\omega=60^\circ$ . Następnie dokonaj przekroju połaci (rys. a i c).

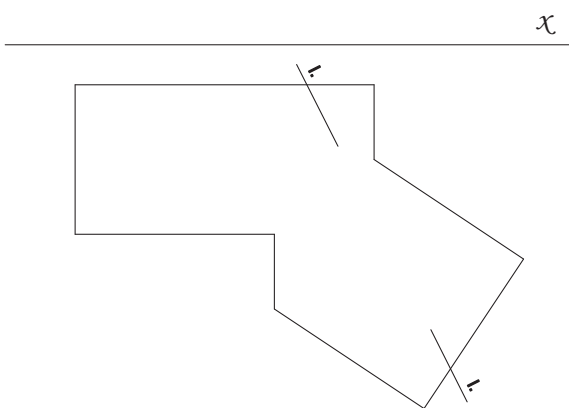
rys. a



rys. b



rys. c 



rys. d 